


Adı:.....  
Soyadı:.....  
Sınıfı ve No:.....

## 2.SINIF MATEMATİK YER YÖN DEĞİŞTİRME HAREKETLERİ

ETKİNLİK-1



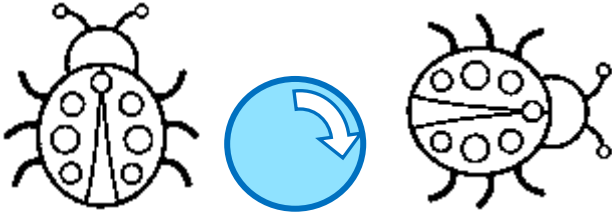
Saat yönünde dönüş



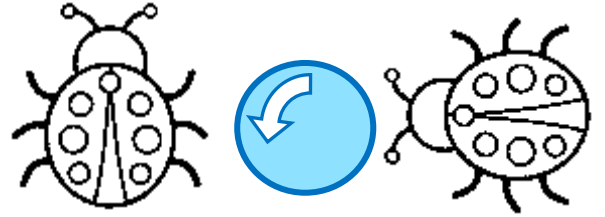
Saat yönünün tersinde dönüş

ÇEYREK DÖNÜŞ

ÇEYREK DÖNÜŞ




Saat yönünde çeyrek dönüş



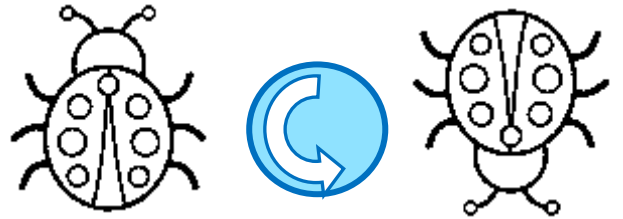
Saat yönünün tersinde çeyrek dönüş

YARIM DÖNÜŞ

YARIM DÖNÜŞ




Saat yönünde yarım dönüş



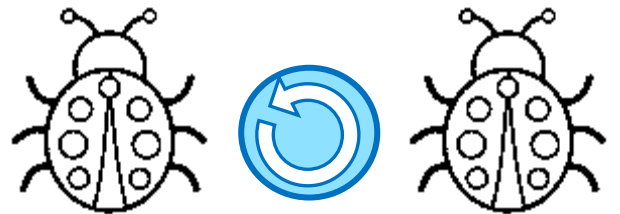
Saat yönünün tersinde yarım dönüş

TAM DÖNÜŞ

TAM DÖNÜŞ



Saat yönünde tam dönüş



Saat yönünün tersinde tam dönüş

www.leventyagmuroglu.com

www.leventyagmuroglu.com


www.leventyagmuroglu.com

Adı:.....  
Soyadı:.....  
Sınıfı ve No:.....

## 2.SINIF MATEMATİK YER YÖN DEĞİŞTİRME HAREKETLERİ

ETKİNLİK-1

Aşağıdaki uğur böceğinin dönüş yönünü ve oranını ok işaretlerinden yararlanarak örnekteki gibi yazınız.



.....Saat yönünde .....  
.....çeyrek dönüş.....




.....  
.....



.....  
.....




.....  
.....



.....  
.....



.....  
.....



.....  
.....



.....  
.....

www.leventyagmuroglu.com

www.leventyagmuroglu.com

www.leventyagmuroglu.com