

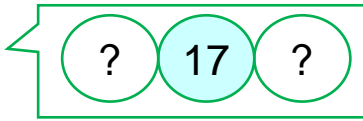
Adı:.....  
Soyadı:.....  
Sınıfı ve No:.....

1.SINIF MATEMATİK  
GENEL DEĞERLENDİRME

TEST-8

1) Aşağıdaki uzunluklardan en uzun olanı hangisidir?

- A) kulaç B) adım C) ayak



Birer birer sayarken 17 sayısı, hangi sayılar arasında söylenir?

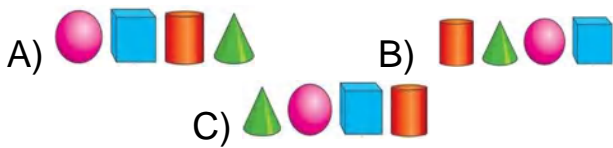
- A) 15-17 B) 16 -18 C) 14-15

3) Aşağıdaki varlık gruplarından hangisi en azdır?



4) 

Yukarıdaki örüntünün kuralı aşağıdakilerden hangisidir?



5) Yandaki balonlardan 4 tanesi patlarsa kaç balon kalır?

- A) 3  
B) 4  
C) 5



6) Aşağıdaki sayılardan hangisini bir sayıya eklersek o sayının değeri değişmez?

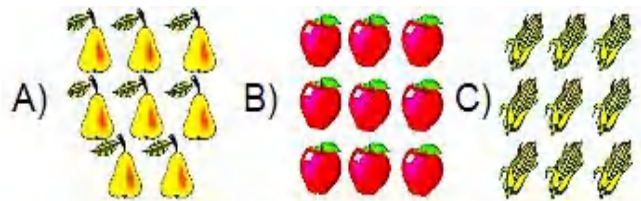
- A) 0 B) 1 C) 10

7) Aşağıdakilerden hangisi daha azdır?



- A) B) C)

8) Aşağıdaki grupların hangisinde 8 tane varlık vardır?





1. (A) (B) (C)
2. (A) (B) (C)
3. (A) (B) (C)
4. (A) (B) (C)

5. (A) (B) (C)
6. (A) (B) (C)
7. (A) (B) (C)
8. (A) (B) (C)

9. (A) (B) (C)
10. (A) (B) (C)
11. (A) (B) (C)
12. (A) (B) (C)

13. (A) (B) (C)
14. (A) (B) (C)
15. (A) (B) (C)
16. (A) (B) (C)

17. (A) (B) (C)
18. (A) (B) (C)
19. (A) (B) (C)
20. (A) (B) (C)



9)



Yukarıdaki pastalardan kaç tane yarım pasta elde ederiz?

- A) 4                      B) 5                      C) 6

10)



Yukarıdaki yıldızların toplamının 10 olması için ne kadar yıldız daha gerekir?

- A) 6                      B) 5                      C) 4

11)



Mert Elçin Kerem

Öğrencilerden hangisinin boyu en uzundur?

- A) Kerem                      B) Elçin                      C) Mert

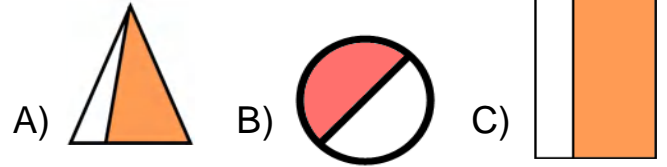
12)

Yandaki cisim aşağıdakilerden hangisidir?



- A) silindir                      B) koni                      C) prizma

13) Aşağıdaki şekillerden hangisinin yarısı boyalıdır?




14)



7 cevizin kaç ceviz fazlası 16 ceviz eder?

- A) 9                      B) 10                      C) 11

15) Aşağıdaki yarımlardan kaç bütün elde edilir?



- A) 5                      B) 3                      C) 2

16) 6'dan başlayıp ileriye doğru ikişer ritmik sayıldığında 4.sayı kaç olur?

- A) 10                      B) 12                      C) 14